



I Resuelve

1. Pinta el grupo que contiene **más que el primero**.

a)



b)



2. Escribe el signo que falta en cada una de las familias de operaciones.

a)  $12 + 3 = 15$   
 $3 \quad 12 \quad 15$   
 $15 \quad 12 \quad 3$   
 $15 \quad 3 \quad 12$

b)  $20 - 15 = 5$   
 $20 \quad 5 \quad 15$   
 $5 \quad 15 \quad 20$   
 $15 \quad 5 \quad 20$

c)  $9 \quad 21 = 30$   
 $21 \quad 9 \quad 30$   
 $30 \quad 9 \quad 21$   
 $30 - 21 \quad 9$

d)  $18 \quad 5 = 13$   
 $18 \quad 13 \quad 5$   
 $5 \quad 13 \quad 18$   
 $13 \quad 5 \quad 18$

3. Suma o Resta. Fíjate en el signo.

a) 
$$\begin{array}{r} 72 \\ + 24 \\ \hline \end{array}$$

b) 
$$\begin{array}{r} 87 \\ - 35 \\ \hline \end{array}$$

c) 
$$\begin{array}{r} 68 \\ - 26 \\ \hline \end{array}$$

d) 
$$\begin{array}{r} 96 \\ - 54 \\ \hline \end{array}$$

e) 
$$\begin{array}{r} 75 \\ + 13 \\ \hline \end{array}$$

f) 
$$\begin{array}{r} 88 \\ - 65 \\ \hline \end{array}$$

## II Marque con una x la alternativa correcta

1. ¿Qué pares de números suman 83?

- a) 63 y 10
- b) 20 y 53
- c) 50 y 33

2. ¿Qué número debo restar a 27 para obtener 19?

- a) 8
- b) 9
- c) 10

3. ¿Cuál es la cantidad aproximada de estrellas en este grupo?

- a) 24 estrellas
- b) 25 estrellas
- c) 26 estrellas



4. Un helado vale \$ 550. ¿Con qué cantidad exacta de monedas puedes comprarlo?

a)



b)



c)

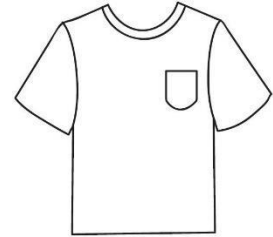


5. ¿Qué signo se debe escribir en el  para que la comparación sea verdadera?


- a) <                      16 + 9      9 + 16
- b) >
- c) =

**III. Resuelve los siguientes problemas. Realiza un desarrollo y responde en forma completa.**

1. Baltazar ordenó las poleras en la tienda. Puso 10 en cada una de las 6 cajas y le sobraron 7. ¿Cuántas poleras tuvo que ordenar?



2. María Elena tenía 28 frascos de mermelada. Alejandra quería comprar algunas mermeladas de damasco y durazno. Ahora María Elena tiene 28 mermeladas. ¿Cuántas compró Alejandra?



3. Julia preparó 70 sándwich de jamón y queso y 30 de ave palta. ¿Cuántos más sándwich de jamón y queso preparó Julia?

