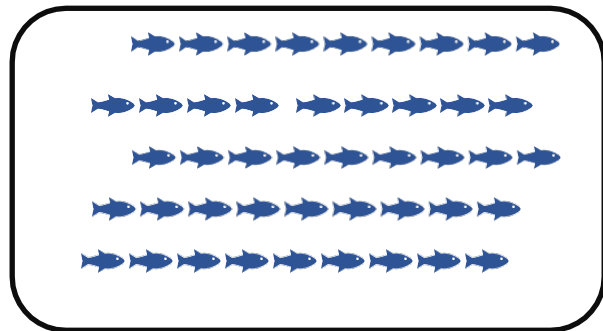


GUÍA N°1 - NÚMEROS Y OPERACIONES


I. Resuelve

1. Cuenta cada grupo de elementos. Une con una línea el número con la cantidad correspondiente.


a) 51




b) 62



c) 45



d) 72



2. Escribe el número de la camiseta del jugador que está uno antes y uno después.

a)




b)



c)



d)



3. Completa con el número que está antes (antecesor) y después (sucesor) del número dado.

a) _____ 26 _____

b) _____ 34 _____

c) _____ 48 _____

d) _____ 51 _____

e) _____ 79 _____

f) _____ 85 _____

4. Ordena cada conjunto de números de menor a mayor.

a) 26 – 35 – 19 – 71

--	--	--	--

b) 64 – 36 – 52 – 28

--	--	--	--

c) 90 – 45 – 63 – 29

--	--	--	--

d) 55 – 77 – 22 – 44

--	--	--	--

II. Marca con una X la alternativa correcta

1. El antecesor y sucesor de 43 son respectivamente:

- a) 41 y 42
- b) 42 y 43
- c) 42 y 44

2. El cartero llevó una carta al departamento “cincuenta y siete”.

- a) 57
- b) 67
- c) 75

3. En cuál de las alternativas los números se encuentran ordenados de mayor a menor

- a) 72 ; 65 ; 47 ; 24
- b) 24 ; 47 ; 65 ; 72
- c) 24 ; 74 ; 56 ; 72

4. ¿Qué número es 7 más que 81?

- a) 86
- b) 87
- c) 88

III. Resuelve los siguientes problemas. Realiza un desarrollo y responde en forma completa.

1. Pablo tiene más cartas que Vicente. Vicente tiene más cartas que Andrés. ¿Quién tiene más cartas?

2. Benedicto apiló de mayor a menor 3 cajones de duraznos que pesaban 35 kg, 42 kg y 16 kg. Dibuja las cajas y escribe el peso en cada una.